






भाग क: वाचन**(एकूण 50 गुण)****प्रश्न 1: दिलेली अक्षरे शब्दांत ओळखून त्या अक्षरांना गोल करा.****1 X 6 = 6**

- 1) (ब) - (बटन) (अ) - (खांब)
- 2) (म) - (मार) (स) - (गर्म)

(प्रत्येक ओळखलेल्या अचूक अक्षरास 1 गुण याप्रमाणे सहा अक्षरास 6 गुण द्यावेत.)**प्रश्न 2: रेषा ओढून शब्द व चित्र यांच्या जोड्या लावा.****1 X 5 = 5**

पुस्तक	
छत्री	
वजन / माप	
तराजू	
बटन	

(शब्द व चित्र यांच्या प्रत्येक अचूक जोडीस 1 गुण याप्रमाणे पाच जोड्यांना 5 गुण द्यावेत.)

प्रश्न 3: खालील चित्रात दिसणाऱ्या चार वस्तूंच्या नावास गोल करा.

2X4=8



मांजर

घर

सूर्य

बुजगावणे

चंद्र

शेकोटी

(प्रत्येक अचूक गोल केलेल्या वस्तूंच्या नावाला 2 गुण याप्रमाणे 4 अचूक उत्तरास 8 गुण द्यावेत.)

प्रश्न 4 : वाक्यांशाचे दोन योग्य भाग रेषेने जोडा.

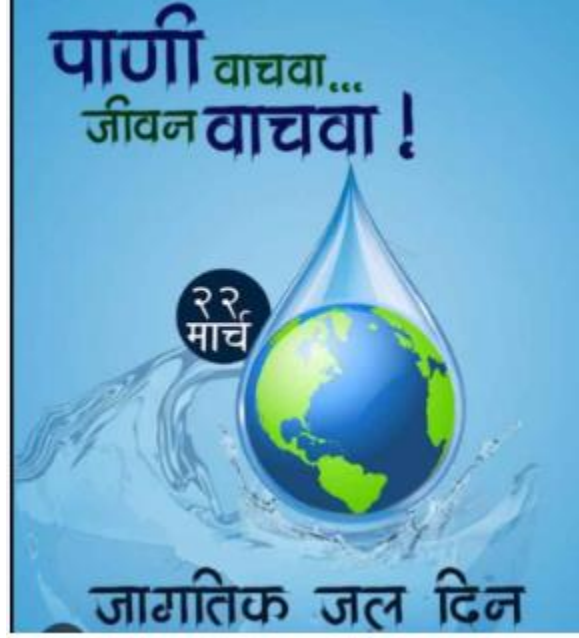
2 X 5 = 10

- | | | |
|----------------------------|---|---------------------------------------|
| 1) व्यायाम केल्यानंतर लगेच | → | क) एकसारखी राहत नाही. |
| 2) बँकेत | → | ख) पाणी पिऊ नका. |
| 3) वेळ कधीच | → | ग) बचत खाते उघडा. |
| 4) घराच्या बांधकामात | → | घ) घरांची पडझड होते. |
| 5) जोरदार भूकंपामुळे | → | ड) वाळू,विटा,सिमेंट इत्यादी वापरतात . |

(प्रत्येक वाक्यांशाच्या भागांच्या अचूक जोडीस 2 गुण याप्रमाणे पाच जोड्यांना 10 गुण द्यावेत)

प्रश्न 5: खाली दिलेले चित्र पाहून योग्य वाक्यांसमोर (✓) व अयोग्य वाक्यांसमोर (×) अशी खूण करा..

3 X 3 = 9



- 1) ही जाहिरात जागतिक जल दिनाची आहे. (✓)
- 2) 22 मार्च हा जागतिक जल दिन आहे. (✓)
- 3) पाणी भरपूर आहे, त्याचा जपून वापर करू नये. (×)

(प्रत्येक अचूक उत्तरास 3 गुण याप्रमाणे तीन अचूक उत्तरास 9 गुण द्यावेत)

प्रश्न 6: पुढील उतारा वाचा व दिलेल्या योग्य वाक्यांसमोर (✓) व अयोग्य वाक्यांसमोर (×) अशी खूण करा. 2 X 6 = 12

अन्वीच्या घराजवळ एक विहीर आहे. पावसाळ्यात विहीर पाण्याने भरते. विहिरीच्या आजूबाजूला बरीच मोठी झाडे आहेत. अन्वीने घराजवळ पाणपोई बनवली आहे. लोक येतात, झाडाखाली विसावतात व पाणपोईतील थंड पाणी पितात. यातून अन्वीला आनंद मिळतो.

- 1) अन्वीच्या घराभोवती मोठी झाडे आहेत. (✓)
- 2) पावसाचे पाणी विहिरीत जात नाही. (×)
- 3) लोकांना थंड पाणी मिळते आणि अन्वीला आनंद होतो. ✓
- 4) अन्वीने घराजवळ पाणपोई बनवली आहे.. (✓)
- 5) अन्वीच्या घरापासून विहीर दूर आहे. (×)
- 6) झाडाखाली लोक आराम करतात. (✓)

(प्रत्येक अचूक उत्तरास 2 गुण याप्रमाणे सहा अचूक उत्तरास 12 गुण द्यावेत)

प्रश्न 1 : दिलेल्या अक्षरांपासून एक-एक शब्द तयार करून लिहा. 2X3=6

- 1) फ –“फ” हे अक्षर वापरून तयार केलेल्या कोणत्याही एका अर्थपूर्ण शब्दास 2 गुण द्यावेत.
- 2) प –“प” हे अक्षर वापरून तयार केलेल्या कोणत्याही एका अर्थपूर्ण शब्दास 2 गुण द्यावेत
- 3) स –“स” हे अक्षर वापरून तयार केलेल्या कोणत्याही एका अर्थपूर्ण शब्दास 2 गुण द्यावेत.

प्रश्न 2: चित्र पाहून त्याचे नाव लिहा.

2X5=10



शंख



...कुलूप..



.....सायकल ..



.....खारुताई



चिमणी/पक्षी

प्रश्न 3: खालील कंसातील शब्दातून योग्य शब्द निवडून वाक्य पूर्ण करा . 2X4=8

(कचराकुंडीत , धूम्रपान , पाणी , पैसे)

1) बँकेत पैसेजमा करतात.

2)पाणीजपून वापरावे.

3) धूम्रपान.....हे आरोग्यासाठी अपायकारक आहे.

4) कचरा नेहमी कचराकुंडीतटाकावा.

(प्रत्येक अचूक उत्तरास 2 गुण याप्रमाणे चार अचूक उत्तरास 8 गुण द्यावेत)

प्रश्न 4: दिलेल्या शब्दांपासून वाक्य तयार करा.

3X3=9

- 1) रांग- ('रांग' हा शब्द वापरून तयार केलेल्या कोणत्याही एका अर्थपूर्ण वाक्यास 3 गुण द्यावेत)
- 2) आपत्ती ('आपत्ती' हा शब्द वापरून तयार केलेल्या कोणत्याही एका अर्थपूर्ण वाक्यास 3 गुण द्यावेत)
- 3) बँक - ('बँक' हा शब्द वापरून तयार केलेल्या कोणत्याही एका अर्थपूर्ण वाक्यास 3 गुण द्यावेत.)

प्रश्न 5: रेशन दुकानातून धान्य खरेदी करताना कोणत्या दोन गोष्टी लक्षात ठेवाव्यात ते लिहा?

1X2=2

- 1) -----प्रत्येक मुद्द्यास एक गुण असे एकूण दोनपैकी गुण द्यावे -----
- 2) -----



क)-----

ख)-----

ग)-----

घ)-----







ड)-----

चित्रावर आधारित प्रत्येकी एका अर्थपूर्ण वाक्यास 3 गुण,
याप्रमाणे पाच वाक्यास (3 × 5 =15) गुण द्यावेत.
बोलीभाषेतून लिहिलेल्या अर्थपूर्ण
वाक्यासही पूर्ण गुण द्यावेत.

भाग ग : गणित (संख्याज्ञान) एकूण 50 गुण

प्रश्न 1 : चित्रे व संख्या यांच्या जोड्या जुळवा .

1X6=6

	16
	9
	11
	15
	10
	8

(प्रत्येक चित्र व संख्या यांच्या अचूक जोडीस 1 गुण याप्रमाणे 6 अचूक उत्तरास 6 गुण द्यावेत)

प्रश्न 2 : क्रम पूर्ण करा.

1X 5=5

क) 10, 13, 16, 19, 22

ख) 60, 65, 70, 75, 80

ग) 100, 120, 140, 160, 180



















घ) 300, 250, 200, 150, 100

ड) 40, 50, 60, 70, 80

(प्रत्येक अचूक उत्तरास 1 गुण याप्रमाणे 5 अचूक उत्तरास 5 गुण द्यावेत)

प्रश्न 3: वस्तूंच्या किमतीशी नोटा व नाण्यांच्या जोड्या लावा.

1X 3=3

 ₹ 320	    
 ₹ 90	    
 ₹ 280	    

(वस्तूंची किंमत आणि किंमत दर्शविणाऱ्या नोटा/ नाणी यांच्या प्रत्येक अचूक जोडीस 1 गुण याप्रमाणे तीन अचूक जोड्यांना 3 गुण द्यावेत)

प्रश्न 4 : उदाहरणे सोडवा.

2X 4=8

क)
$$\begin{array}{r} 28 \\ +14 \\ \hline \end{array}$$

$$\begin{array}{r} \dots\dots\dots \\ 42 \\ \hline \end{array}$$

ख)
$$\begin{array}{r} 49 \\ -30 \\ \hline \end{array}$$

$$\begin{array}{r} \dots\dots\dots \\ 19 \\ \hline \end{array}$$

ग)
$$\begin{array}{r} 31 \\ \times 4 \\ \hline \end{array}$$

$$\begin{array}{r} \dots\dots\dots \\ 124 \\ \hline \end{array}$$

घ)
$$\begin{array}{r} 07 \\ 9 \overline{)63} \\ -63 \\ \hline \end{array}$$

$$\begin{array}{r} \dots\dots\dots \\ 00 \\ \hline \end{array}$$

(प्रत्येक उदाहरणाच्या अचूक उत्तरास 2 गुण याप्रमाणे 4 उदाहरणांना 8 गुण द्यावेत.)

प्रश्न 5: सोडवा

क) एक लीटर दुधाच्या बाटलीची किंमत 45 रू.आहे तर अशा 9 दुधाच्या बाटल्यांची किंमत किती होईल ?

1X4=4

$$\begin{array}{r} 45 \\ \times 9 \\ \hline 405 \text{ रुपये} \\ \hline \end{array}$$

उदाहरणाच्या मांडणीस- 1 गुण

405 या उत्तरास- 3 गुण

एकूण - 4 गुण

ख) सीमाने 50 रू.चे आंबे व 40 रू.चे सफरचंद विकत घेतले तर तिने एकूण किती रू.खर्च केले?

1X4=4

$$\begin{array}{r} 50 \\ + 40 \\ \hline \dots\dots\dots \\ 90 \\ \hline \end{array}$$

उदाहरणाच्या मांडणीस- 1 गुण

90 या उत्तरास- 3 गुण

एकूण - 4 गुण

प्रश्न 6 : रिकाम्या जागी योग्य शब्द लिहा.

2X4=8

क) 5 रु. = 500 पैसे.

ख) 3 किलोमीटर = 3000 मीटर.


ग) 200 पैसे = 2 रूपये.

घ) 600 सेंटीमीटर = 6 मीटर.

(प्रत्येक अचूक उत्तरास 2 गुण द्यावेत. याप्रमाणे 4 अचूक उत्तरास 8 गुण द्यावेत)

प्रश्न 7 : दिलेल्या घड्याळातील वेळ पाहून लिहा.

2X4=8



.....1..वाजून40.....मिनिट



.....4.....वाजून ..41.....मिनिट

किंवा 16 वा. 41 मी.

(प्रत्येक अचूक उत्तरास 2 गुण द्यावेत. याप्रमाणे 4 अचूक उत्तरास 8 गुण द्यावेत)

प्रश्न 8. दिनदर्शिका पहा व प्रश्नाची उत्तरे लिहा.

1X4=4

ऑगस्ट		2023				
रवि	सोम	मंगळ	बुध	गुरु	शुक्र	शनि
		1	2	3	4	5
6	7	8	9	10	11	12
13	14	15	16	17	18	19
20	21	22	23	24	25	26
27	28	29	30	31		

१) या महिन्यात एकूण किती दिवस आहेत ? =

31

२) या महिन्यात 5 तारखेला कोणता वार आहे ?

शनिवार

३) या महिन्यात एकूण किती शुक्रवार आहेत ? =

4/चार

४) या महिन्यातील शेवटची तारीख कोणती आहे?

31

(प्रत्येक अचूक उत्तरास 1 गुण द्यावा. याप्रमाणे 4 अचूक उत्तरास 4 गुण द्यावेत)